

2025年广西高职高专分类考试招生联合测试 对口招生考试职业技能测试试题 (样题)

附件 5

2025年广西高职高专分类考试招生联合测试 对口招生考试职业技能测试试题 (样题)

说明:

1. 本测试包括学习能力、语言表达能力、分析推理能力、技术技能操作能力四部分内容。
2. 本测试全部采用标准化试题,共32题,满分为300分。
3. 对口招生《文化素质测试+职业技能测试》考试时间共120分钟。

一、学习能力 (本大题共 11 题,共 100 分)

(一) 选择题:共8小题,每小题8分,共计64分。每小题给出的四个选项中,只有一个选项是正确的,请选出你认为正确的选项并填涂在答题卡相应的位置上。

1. 在垃圾分类中,可回收物主要包括废纸、塑料、玻璃、金属和布料五大类,以下垃圾中属于可回收物的是()。
A. 图书
B. 电池
C. 纸巾
D. 水银温度计
2. 如果要学习秦始皇为什么要修筑万里长城,三国鼎立是指哪三个国家,郑和为什么要下西洋等相关的知识,对学习目标描述最准确的是()。
A. 学习世界历史知识
B. 学习中国古代历史知识
C. 学习中国传统文化
D. 学习汉代历史知识
3. 我们都听说过“乌鸦喝水”的故事,瓶子的水少,乌鸦就用旁边随处可见的石子放在瓶子里,最后使自己喝到了水。这说明人们在利用有限的资源取得成功的时候,最重要的是要善于()。
A. 学习成功经验
B. 提高工作效率
C. 做好思想准备
D. 运用方法和工具
4. 本题后面列的哪一项应接在“X 0 0 0 0 X X 0 0 0 X X X”的后面。()
A. X 0 X 0
B. 0 0 X
C. 0 X X
D. 0 0
5. 下面关于学习能力的描述,不正确的是()。

- A. 学习能力是天性习得，所以学习能力的强弱是由智商决定的
- B. 拥有学习能力的人，可以把获取到的准确的知识和信息转化为自身能力
- C. 学习能力必须通过一定的学习实践才能形成和发展
- D. 学生要通过教师的指导来掌握科学的学习方法，从而提高学习能力
6. 按下列诗词所描写的一年中的节日的先后顺序，排列正确的是（ ）。
- ①清明时节雨纷纷，路人行人欲断魂
- ②离别一何久，七度过中秋
- ③年年端午风兼雨，似为屈原陈昔冤
- ④爆竹声中一岁除，春风送暖入屠苏
- A. ①②③④
- B. ④①②③
- C. ④①③②
- D. ①③②④
7. 进入互联网时代，发电子邮件是不可少的，一般而言，发电子邮件包括以下几个步骤：a. 打开电子信箱；b. 输入发送地址；c. 输入主题；d. 输入信件内容；e. 点击“写邮件”；f. 点击“发送邮件”。正确的步骤是（ ）。
- A. a→b→c→d→e→f
- B. a→c→d→f→e→b
- C. a→e→b→c→d→f
- D. b→a→c→d→f→e
8. 人讲举一反三、触类旁通，意思是掌握某种知识后，能把这些知识应用于相似的或有联系的工作岗位及工作任务中去，实现学习的迁移。当然，迁移有正迁移和负迁移之分，下面哪些现象不属于正迁移？（ ）
- A. 学习钢琴的人再来学习电子琴
- B. 学习汉语拼音的人再去学习英语
- C. 学习数学的人再去学习经济学
- D. 学习英语的人再来学习法语

(二) 选择题：共3小题，每小题12分，共计36分。每小题给出的四个选项中，有多项符合题目要求，请选出你认为正确的选项并填涂在答题卡相应的位置上。全部选对得12分，选对但不全的得部分分，不选或有选错的得0分。

9. 寓言是用比喻性的故事寄寓意味深长的道理的文学作品，带有讽刺或劝诫的性质。以下成语中属于寓言故事的是（ ）。

- A. 女娲补天 B. 自相矛盾 C. 亡羊补牢 D. 三顾茅庐

10. 如果想通过获取人文知识来提高人文素养，那么以下书籍中可以选择阅读的是（ ）。

- A. 《三国演义》 B. 《史记》 C. 《乡土中国》 D. 《朝花夕拾》

11.

二、语言表达能力（本大题共 11 题，共 100 分）

（一）选择题：共8小题，每小题8分，共计64分。每小题给出的四个选项中，只有一个选项是正确的，请选出你认为正确的选项并填涂在答题卡相应的位置上。

1. 在今天的商业世界中，供过于求是普遍现象。为了说服顾客购买自己的产品，大规模竞争就在同类商品的生产企业之间展开了，他们得经常设法向消费者提醒自己产品的名字和优等的质量，这就需要靠广告。

对这段文字概括最恰当的是（ ）。

- A. 广告是商业世界的必然产物
B. 各商家之间用广告开展竞争
C. 广告就是要说服顾客买东西
D. 广告是经济活动中供过于求的产物

2. 给下面语句排序，衔接恰当的一项是（ ）。

①因为较弱的电磁辐射，也会对人的神经系统与心血管系统产生一定的干扰。

②人的大脑和神经会产生微弱的电磁波，当周围电器发出比它强数百万倍的电磁波时，人的神经活动就会受到严重干扰。

③即使在不太强的电磁场环境中工作和生活，人也会受到影响。

④如果长时间处于这种强电磁波的环境中，人会出现头痛、注意力不集中、嗜睡等症状，强电磁辐射会使心血管疾病加重、神经系统功能失调。

- A. ④①②③ B. ②③①④
C. ④③②① D. ②④③①

3. 牛的可贵之处，即在活着的时候，就不知疲倦地供人役使，死后则把全身献给社会。牛对于社会真是“鞠躬尽瘁，死而后已”。这段话支持了的观点是（ ）。

- A. 牛是不知疲倦的动物
- B. 牛是农民的宝贝
- C. 牛是社会的财富
- D. 牛是奉献精神的象征

4. 下列各句中，表达得体的是（ ）。

A. 真是事出意外！舍弟太过顽皮，碰碎了您家这么贵重的花瓶，敬请原谅，我们一定照价赔偿。

B. 他的书法龙飞凤舞，引来一片赞叹，但落款却出了差错，一时又无法弥补，只好连声道歉：“献丑，献丑！”

C. 他是最信任的朋友，头脑灵活，处事周到，每次我遇到难题写信垂询，都能得到很有启发的回复。

D. 由于路上堵车非常严重，我赶到约定地点的时候，对方早已恭候多时。

5.

6.

7.

8.

(二) 选择题: 共3小题, 每小题12分, 共计36分。每小题给出的四个选项中, 有多项符合题目要求, 请选出你认为正确的选项并填涂在答题卡相应的位置上。全部选对得12分, 选对但不全的得部分分, 不选或有选错的得0分。

9. 关于以下文学作品语言风格分析正确的是()。

- A. 李白的诗风豪放飘逸, 如“飞流直下三千尺, 疑是银河落九天”, 想象奇特, 气势磅礴。
- B. 柳永的词多婉约细腻, “今宵酒醒何处? 杨柳岸, 晓风残月”, 情感含蓄, 意境凄美。
- C. 鲁迅的杂文语言犀利深刻, 如“不在沉默中爆发, 就在沉默中灭亡”, 直刺社会黑暗。
- D. 沈从文的《边城》语言具有地方特色(湘西方言特色), 华丽夸张, 充满诗性。

10. 下列句子表意准确的是()。

- A. 我大约在晚上七点左右能完成作业
- B. 他的年龄大概是十五岁上下
- C. 我肯定明天下午三点会准时到达
- D. 他明确表示愿意参加这次活动

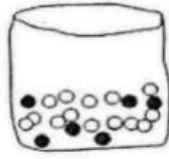

11.

三、分析推理能力(本大题共5题, 每题10分, 共计50分。每题给出的四个选项中, 只有一个选项是正确的, 请选出你认为正确的选项并填涂在答题卡相应的位置上。)

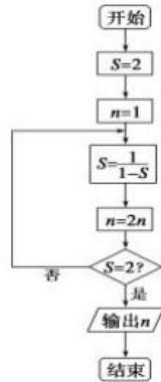
1. 井冈山: 红色摇篮, 请据此选出逻辑关系最为匹配的一项是()。

- A. 延安: 革命圣地
- B. 庐山: 瀑布
- C. 华山: 险峻
- D. 广西: 壮族自治区

2. 商场有一个活动, 先旋转转盘指针。如果指针停在奇数的位置, 玩家就可以从袋子抽出一个弹珠。转盘和袋子里的弹珠如下图所示, 如果抽到黑色的弹珠就能得到奖品, 小明试了一次, 请问他得到奖品的可能性为何?()



- A. 不可能 B. 不太可能
C. 非常可能 D. 一定可以
3. 有五个学生：甲、乙、丙、丁、戊，他们的学习成绩的关系为：丙没有丁好，甲没有乙好，戊好于丁，而乙不如丙好。请问五位学生成绩从高到低排序是（ ）。
- A. 甲乙丙丁戊 B. 乙戊丁丙甲
C. 丁丙乙甲戊 D. 戊丁丙乙甲
4. 阅读如图所示的程序框图，运行相应的程序，输出的结果是（ ）。



- A. 2 B. 4 C. 8 D. 16
5. 如果生物要生存，就需要进行呼吸运动；乳酸菌是一种生物，可以在无氧条件下生存。根据以上描述，可以推断（ ）。
- A. 有的生物在无氧条件下可以进行呼吸运动
B. 乳酸菌是一种不需要呼吸的生物
C. 乳酸菌在无氧条件下不能呼吸
D. 能在无氧条件下生存的生物为数不多

四、技术技能操作能力（本大题共 15 题，请选择其中 5 题进行作答，每题 10 分，共计 50 分。每小题给出的四个选项中，只有一个选项是正确的，请选出你认为正确的选项并填涂在答题卡相应的位置上。）

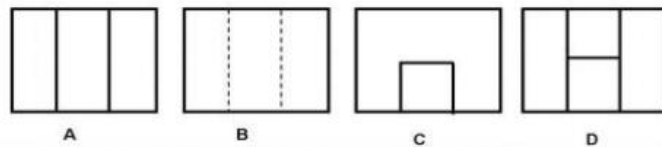
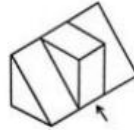
1. 下列常用电工工具中，不具有绝缘套管的是（ ）。

- A. 钢丝钳 B. 尖嘴钳 C. 剥线钳 D. 活络扳手

2. 正确使用验电笔的方法是（ ）。

- A. 手只接触测电笔的绝缘外壳
 B. 手只接触笔尾的金属体
 C. 手要接触笔尾的金属体（确保安全），用笔尖接触被测物体
 D. 手要接触笔尖的金属体

3. 根据立体图绘制主视图，箭头指向为主视方向，下图中正确的是（ ）。



4. 用砂轮机磨削工件时，应在砂轮机转速（ ）后进行。

- A. 加速 B. 减速 C. 停止 D. 正常

5. 使用锉刀时不能（ ）。

- A. 推锉 B. 来回锉 C. 单手锉 D. 双手锉

6. 要求两轴中心距较大，且为低速、重载和高温等场合下工作，宜选用（ ）。

- A. 带传动 B. 链传动 C. 螺旋传动 D. 齿轮传动

7. 可避免引起机械伤害的做法是（ ）。

- A. 转动部位停稳前操作 B. 跨越运转的机轴
 C. 旋转物件上不得放置物品 D. 旋转部件上可放少量工具

8. 用扳手转动螺栓时，顺时针为（ ），逆时针为（ ）。

- A. 拧松 拧紧 B. 拧紧 拧松 C. 拧松 拧松 D. 以上都不

正确

9. 在数字电路中，或逻辑运算， $1+1=$ （ ）。
- A. 0 B. 1 C. 2 D. 10
10. 叉车载货下坡时应（ ）。
- A. 倒车行驶 B. 加速行驶 C. 正常行驶 D. 减速行驶
11. 出纳人员根据审核无误的原始凭证（价值50元），在办理付款业务时，应在付款原始凭证上签字并加盖（ ）章。
- A. 现金收讫 B. 现金付讫 C. 银行收讫 D. 银行付讫
12. 一些B2B网站的后台都设有新闻发布功能，便于优化人员在商铺中发布企业或产品新闻。这属于软文传播路径中纵向传播的哪一种（ ）。
- A. 内页路径 B. 论坛路径 C. 软文路径 D. 商铺路径
13. 物流派件时客户未签字，快递员回到营业网点后（ ）代替客户签字。
- A. 必须 B. 一般可以 C. 有时不可以 D. 不可以
14. 餐饮服务中，为客人撤下筷套时，以下行为正确的是（ ）。
- A. 无需为客人撤筷套 B. 直接上前为客人撤筷套
C. 用手势或语言提醒客人 D. 请客人把筷套递给自己
15. 洗手时保育员为幼儿卷袖不当、用力过猛容易造成关节（ ）。
- A. 骨折 B. 紧张 C. 脱臼 D. 松弛